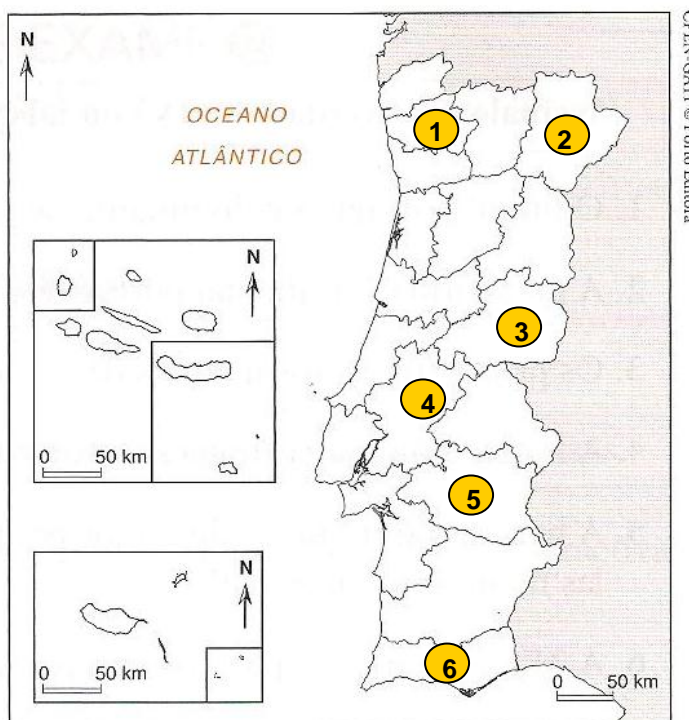


**Questão 01** (4,5 valores)

“Em 1836, Portugal foi dividido pelo Poder Central, tratava-se de uma medida de racionalização administrativa [...] destinada a organizar o espaço português em células... Esta é a mais antiga nomenclatura territorial estabelecida por lei. Deste modo, a divisão administrativa de Portugal estabelece-se segundo uma determinada hierarquia.”

Adaptado de Suzane Daveau (1998) – Portugal Geográfico, p. 130.

- A) **Indique**, por ordem hierárquica, quais as unidades administrativas em que se divide o território português. (0,75 valores)
- B) **Identifique** as unidades administrativas assinaladas no mapa com os números 1, 2, 3, 4, 5 e 6. (1,5 valores)

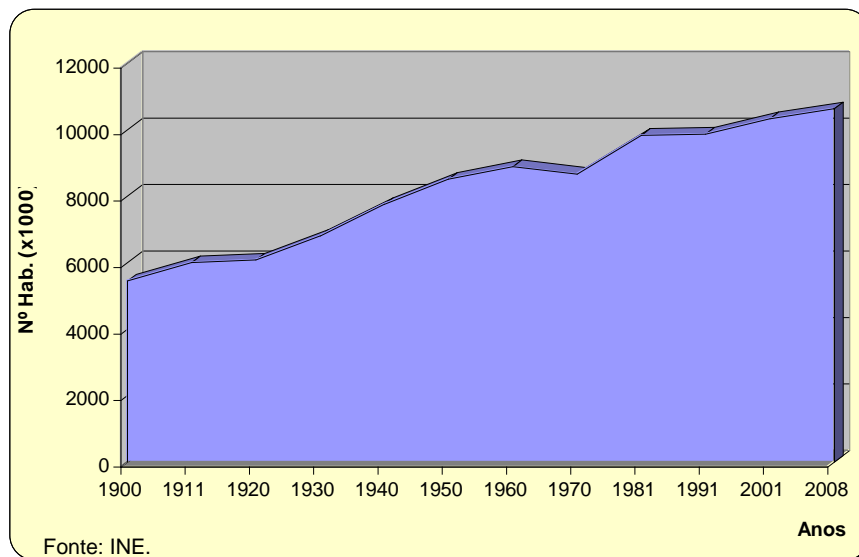


- C) **Refira** qual a divisão territorial introduzida no nosso país após a adesão à CEE, utilizada para fins estatísticos. **Explique** a importância da utilização desta divisão territorial. (2,25 valores)

## Questão 02 (4 valores)

Observe atentamente a Figura 1, onde está representada a evolução da população portuguesa no período compreendido entre 1900 e 2008.

Figura 1 – Evolução da população portuguesa (1900 e 2008)



- A) **Refira** as variáveis demográficas que influenciam o crescimento efectivo da população de um país. (1 valor)
- B) **Assinale** as afirmações verdadeiras com **V** e as falsas com **F**. (1,5 valores)
- 1) A estagnação dos valores da evolução da população verificados entre 1911 e 1920 ficou a dever-se à conjugação dos efeitos da I Guerra Mundial, da epidemia da gripe pneumónica e do fluxo de emigração para o continente americano.
  - 2) Na década de 1920 o crescimento da população portuguesa foi elevado, devido à redução da taxa de mortalidade e ao decréscimo da emigração nacional, provocado pela crise económica mundial.
  - 3) De 1960 a 1970, a população portuguesa sofreu um forte decréscimo, provocado pela forte corrente emigratória impulsionada pela atractividade exercida pelos países da Europa Ocidental que se encontravam em reconstrução no pós II Guerra Mundial e pela “fuga” à guerra colonial por parte dos jovens.
  - 4) De 1970 a 1981 registou-se o mais acentuado crescimento populacional de todo o século XX. Esta situação foi consequência de uma elevada imigração verificada no nosso país.

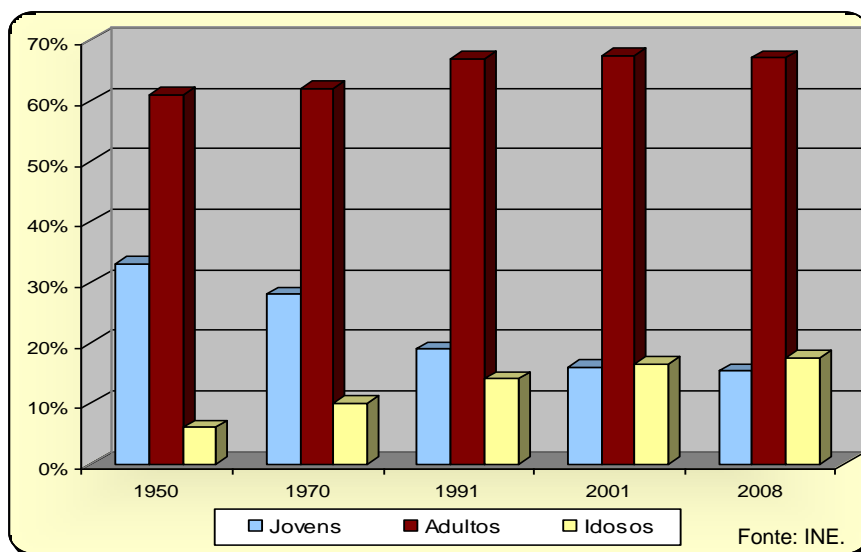
- 5) Na década de 1980 registou-se um crescimento demográfico praticamente nulo, como consequência da diminuição da taxa de crescimento natural, resultado dos elevados valores da taxa de mortalidade.
- 6) Na década de 1990 a população nacional voltou a aumentar, principalmente devido à entrada em Portugal de muitos imigrantes, provenientes sobretudo da Europa de Leste e dos PALOP.

C) **Justifique** as afirmações que identificou anteriormente como Falsas. (1,5 valores)

### Questão 03 (4 valores)

**Observe** atentamente a Figura 2, que representa a distribuição da população nacional por grupos etários.

**Figura 2** – Distribuição da população portuguesa por grupos etários (1950 – 2008)

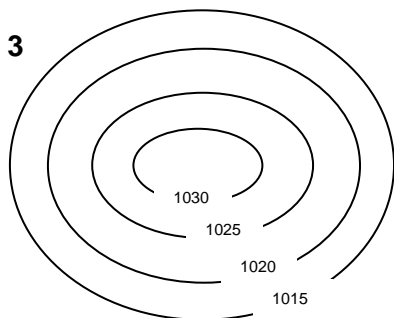


- A) **Indique** dois problemas demográficos de Portugal que estão evidenciados na Figura 1. (1 valor)
- B) **Explique** duas consequências dos problemas demográficos indicados anteriormente. (2 valores)
- C) **Refira** duas medidas que deverão ser implementadas para solucionar os problemas demográficos representados pelo gráfico. (1 valor)

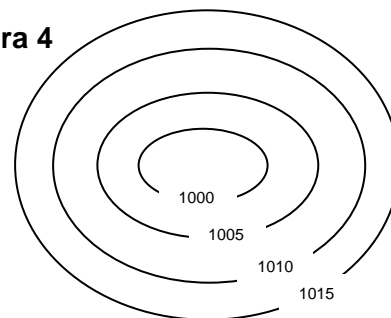
**Questão 04** (3 valores)

Observe atentamente as Figuras 3 e 4.

**Figura 3**



**Figura 4**



- A) **Identifique** os centros de pressão barométrica representados nas figuras 3 e 4. (1 valor)
- B) **Indique e justifique** o estado de tempo normalmente associado a um centro de pressão barométrica como o representado na figura 3. (2 valores)

**Questão 05** (4,5 valores)

“O mundo rural português evoluiu de forma assimétrica, apesar de se registarem algumas melhorias em termos de bem-estar social, nomeadamente de equipamentos, assistindo-se a graves problemas associados a uma perda de vitalidade demográfica e económica. Deste modo, o desenvolvimento rural deve procurar equilibrar os aspectos económicos, empresariais, sociais e ambientais.”

- A) **Indique** três problemas com que se deparam, actualmente, as áreas rurais do interior do nosso país. (1,5 valores)
- B) **Explique** de que modo o Turismo em Espaço Rural pode ser uma actividade que permite a revitalização do tecido económico rural. (2 valores)
- C) **Enumere** dois factores que justifiquem o interesse dos indivíduos pelo Turismo em Espaço Rural. (1 valor)