


1 класс

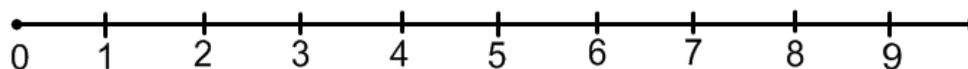
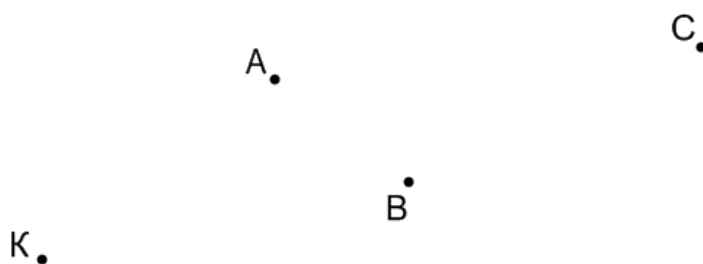
Проверочная работа №2

1. Графический диктант.

- | | |
|------------------------|-------------------------|
| 1. Одна клетка вверх. | 10. Одна клетка вправо. |
| 2. Одна клетка влево. | 11. Одна клетка вниз. |
| 3. Одна клетка вверх. | 12. Одна клетка вправо. |
| 4. Одна клетка вправо. | 13. Одна клетка вниз. |
| 5. Одна клетка вверх. | 14. Одна клетка влево. |
| 6. Одна клетка вправо. | 15. Одна клетка вниз. |
| 7. Одна клетка вверх. | 16. Три клетки вправо. |
| 8. Одна клетка вправо. | 17. Одна клетка вверх. |
| 9. Одна клетка вниз. | |



2. Выполни задания:



- а) начерти отрезок AC;
- б) начерти отрезок BC;

Источник

Истомина Н.Б., Шмырёва Г.Г. Контрольные работы по математике. 1 класс – Смоленск: Ассоциация XXI век, 2004. – 64 с.